

تم تحميل وعرض المادة من

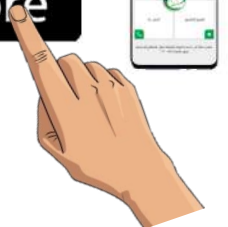
منهجي

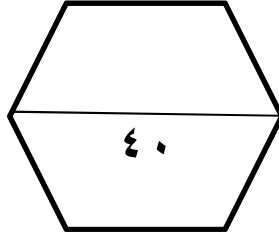
mnhaji.com



موقع منهجي منصة تعليمية توفر كل ما يحتاجه المعلم
والطالب من حلول الكتب الدراسية وشرح للدروس
بأسلوب مبسط لكافة المراحل التعليمية وتوزيع
المناهج وتحضير وملخصات ونماذج اختبارات وأوراق
عمل جاهزة للطباعة والتحميل بشكل مجاني

حمل تطبيق منهجي ليصلك كل جديد





الدرجة رقماً

السؤال

س ١

س ٢

س ٣

عزيز الطالب / استعن بالله ثم أجب عن الأسئلة

التالية :

المادة

الدراسات الاجتماعية

اسم الطالب:

رقم الجلوس:

أسئلة الاختبار النهائي للفصل الدراسي الثالث

للعام الدراسي ١٤٤٥ هـ

السؤال الأول : أجب بعلامة (√) أمام العبارة الصحيحة وعلامة (X) أمام العبارة الخاطئة :

()	١) يحدد إطار الخريطة بعد الانتهاء من رسمها .
()	٢) الخريطة لا توضح الظواهر المتحركة .
()	٣) الصورة الجوية توضح خطوط الطول ودوائر العرض .
()	٤) يشير مؤشر اتجاه الخريطة دائماً نحو جهة الشمال .
()	٥) من فوائد إطار الخريطة تحديد الجزء الذي تمثله الخريطة .
()	٦) التوقيع هو نقل المعلومات من الخريطة إلى الطبيعة .
()	٧) من أهمية الإنجاز الذاتي الطموح .
()	٨) من حقوق المواطن السعودي الانتماء والولاء للوطن .
()	٩) ينقسم التطوع إلى قسمين تطوع فردي وتطوع مؤسسي .
()	١٠) من مجالات التطوع خدمة التراث .

السؤال الثاني : اختر الإجابة الصحيحة في الجمل التالية وذلك بوضع علامة (√) في المربع الذي أمامك :

١	هي وسيلة لتمثيل سطح الكرة الأرضية أو جزء منه بظواهره الطبيعية والبشرية على لوحة مستوية :	٢	هي الخرائط التي تمثل عليها الظواهر الطبيعية التي خلقها الله والتي لا أثر للإنسان في نشأتها :
أ- <input type="checkbox"/>	مقياس الرسم	أ- <input type="checkbox"/>	الخرائط البشرية
ب- <input type="checkbox"/>	الخريطة	ب- <input type="checkbox"/>	الخرائط الطبيعية
ج- <input type="checkbox"/>	علم المساحة	ج- <input type="checkbox"/>	الخرائط التضاريسية
د- <input type="checkbox"/>	الصورة الجوية	د- <input type="checkbox"/>	الخرائط السياسية
٣	توضح طريقة هجرة نبينا محمد صلى الله عليه وسلم من مكة المكرمة إلى المدينة المنورة خريطة :	٤	هي صورة لجزء من سطح الأرض تلتقط بالطائرات أو المناطيد المزودة بالكاميرات التصويرية : يقصد بها خطوط الطول ودوائر العرض :
أ- <input type="checkbox"/>	اقتصادية	أ- <input type="checkbox"/>	عنوان الخريطة
ب- <input type="checkbox"/>	مناخية	ب- <input type="checkbox"/>	إطار الخريطة
ج- <input type="checkbox"/>	تاريخية	ج- <input type="checkbox"/>	الصور الجوية
د- <input type="checkbox"/>	سياسية	د- <input type="checkbox"/>	مقياس الرسم

٥	أفضل أنواع المقاييس هو المقياس :	٦	يقصد بما خطوط الطول ودوائر العرض :
أ-	<input type="checkbox"/> الخطي	أ-	<input type="checkbox"/> الظواهر الطبيعية
ب-	<input type="checkbox"/> الكتاني	ب-	<input type="checkbox"/> الاحداثيات
ج-	<input type="checkbox"/> النسبي	ج-	<input type="checkbox"/> الخريطة
د-	<input type="checkbox"/> الكسري	د-	<input type="checkbox"/> شبكة الإحداثيات
٧	من فوائد نظام تحديد المواقع :	٨	المساحة الفلكية تكون لمعرفة الحسابات الفلكية مثل :
أ-	<input type="checkbox"/> تحديد المواقع تحديداً دقيقاً	أ-	<input type="checkbox"/> معرفة الشهور
ب-	<input type="checkbox"/> تحديد اتجاه القبلة	ب-	<input type="checkbox"/> أوقات الصلاة
ج-	<input type="checkbox"/> إرشاد السفن والطائرات	ج-	<input type="checkbox"/> تحديد القبلة
د-	<input type="checkbox"/> جميع ما سبق	د-	<input type="checkbox"/> جميع ما سبق
٩	من واجبات المواطن السعودي :	١٠	من فوائد الانتماء للوطن :
أ-	<input type="checkbox"/> توفير الرعاية الصحية	أ-	<input type="checkbox"/> توفير الرعاية الصحية
ب-	<input type="checkbox"/> الاعتزاز بالوطن والافتخار به	ب-	<input type="checkbox"/> تعزيز الوحدة الوطنية
ج-	<input type="checkbox"/> توفير التعليم العام	ج-	<input type="checkbox"/> توفير التعليم العام
د-	<input type="checkbox"/> جميع ما سبق	د-	<input type="checkbox"/> لا شيء مما سبق
١١	مجهود إرادي يؤديه الفرد لإنتاج سلعة أو تقديم خدمة مقابل الحصول على أجر	١٢	تم اكتشاف النفط عام :
أ-	<input type="checkbox"/> الموارد	أ-	<input type="checkbox"/> ١٣٥٥ هـ
ب-	<input type="checkbox"/> الانتاج	ب-	<input type="checkbox"/> ١٣٥٦ هـ
ج-	<input type="checkbox"/> العمل	ج-	<input type="checkbox"/> ١٣٥٧ هـ
د-	<input type="checkbox"/> لا شيء مما سبق	د-	<input type="checkbox"/> ١٣٥٨ هـ
١٣	من آثار التضخم :	١٤	يوصف بما من تتوافر لديهم مهارات ولا تتوافر لهم فرص عمل :
أ-	<input type="checkbox"/> ارتفاع نسبة البطالة	أ-	<input type="checkbox"/> البطالة المقنعة
ب-	<input type="checkbox"/> ارتفاع أجور العاملين	ب-	<input type="checkbox"/> البطالة الوظيفية
ج-	<input type="checkbox"/> الطلب المستمر على السلع والخدمات مع قلة العرض	ج-	<input type="checkbox"/> البطالة الاختيارية
د-	<input type="checkbox"/> كل من أ و ب	د-	<input type="checkbox"/> البطالة الهيكلية
١٥	من يسخر نفسه ووقته وجهده أو ماله بطوعية لمساعدة الآخرين :	١٦	مساعدة إنسانية ارتبطت بكل معاني الخير عند المجموعات البشرية :
أ-	<input type="checkbox"/> التطوع	أ-	<input type="checkbox"/> المواطن الصالح
ب-	<input type="checkbox"/> المواطن الصالح	ب-	<input type="checkbox"/> التطوع
ج-	<input type="checkbox"/> العمل التطوعي	ج-	<input type="checkbox"/> المتطوع
د-	<input type="checkbox"/> المتطوع	د-	<input type="checkbox"/> العمل التطوعي
١٧	من صفات المتطوع :	١٨	من فوائد التطوع على النفس :
أ-	<input type="checkbox"/> الأناية	أ-	<input type="checkbox"/> مساندة الجهود الحكومية
ب-	<input type="checkbox"/> الإيثار	ب-	<input type="checkbox"/> المهارات والخبرات
ج-	<input type="checkbox"/> عدم الإخلاص في العمل	ج-	<input type="checkbox"/> تحقيق الأمن الشامل
د-	<input type="checkbox"/> عدم المسؤولية	د-	<input type="checkbox"/> لا شيء مما سبق

١٩	الجهة المسؤولة لبرنامج كن عوناً :	٢٠	من مجالات برنامج تكاتف :
أ-	<input type="checkbox"/> وزارة الحج والعمرة	أ-	<input type="checkbox"/> التدريب والتوعية في مجال العمل التطوعي
ب-	<input type="checkbox"/> الجمعية السعودية للعمل التطوعي	ب-	<input type="checkbox"/> توفير الرعاية والخدمات الصحية التي تلي احتياجات كبار السن
ج-	<input type="checkbox"/> الجمعية السعودية لمساندة كبار السن	ج-	<input type="checkbox"/> توعية المجتمع بأهمية حفظ النعمة
د-	<input type="checkbox"/> الجمعية الخيرية للطعام	د-	<input type="checkbox"/> إرشاد ضيوف الرحمن

السؤال الثالث: اكتب الرقم المناسب من المجموعة (أ) أمام ما يناسبه من المجموعة (ب) :

مجموعة (أ)	الاجابة	مجموعة (ب)
١- المساحة الجيوديسية		الغرض منها إنشاء الخرائط التفصيلية وبيان المعالم وبعض التفاصيل .
٢- المساحة المستوية		الغرض منها رسم الخرائط التفصيلية من أجل بيان ما تحويه الأرض من معالم طبيعية وبشرية .
٣- عنوان الخريطة		تعني الأعمال المساحية التي تغطي جزء صغير من سطح الأرض دون الاهتمام بكروية الأرض .
٤- نظام (GPS)		تعني تحديد نقط على سطح الأرض للمساحات الشاسعة مع الأخذ في الحسبان بكروية الأرض .
٥- المساحة التفصيلية		الاسم الذي يحدد موضوع الخريطة .
٦- المساحة الطبوغرافية		نظام مترابط يساعد على تحديد احداثيات أي مكان على سطح الأرض بدقة عالية وفق خطوط الطول ودوائر العرض .
٧- المسؤولية		هو بذل الجهد والوقت أو المال أو الثلاثة معاً عن رغبة واختيار بغرض أداء خدمة اجتماعية أو مبادرة ذاتية دون توقع أجر مالي .
٨- الإنجاز الذاتي		هي زيادة الأسعار تصاعدياً بسبب الطلب الذي يزيد على قدرة العرض .
٩- التضخم		هي قدرة الشخص على أداء واجباته وتحمل نتائج أقواله وأفعاله .
١٠- التطوع		هو حالة داخلية مستمرة مرتبطة بمشاعر الفرد .

انتهت الأسئلة

مع تمنياتي لكم بالتوفيق والنجاح

إعداد : خالد الحربي

رقم الجلوس	الصف الثالث المتوسط	أسئلة اختبار الفصل الدراسي الثالث 1445 هـ
عدد الصفحات	الزمن ساعة	المادة اجتماعيات
اسم الطالبة		

السؤال	س1	س2	س3	س4	المصححة	المراجعة	المدققة
الدرجة رقما							
الدرجة كتابة							

استعيني بالله ثم أجيب عن الأسئلة التالية

السؤال الأول :

(أ) اكمل الفراغات التالية :

- 1- ينقسم العمل المساحي إلى قسمين هما و
- 2- تنقسم المساحة المستوية إلى قسمين هما و
- 3- هناك عوامل متعددة تتحكم في اقتصاد أي دولة من أبرزها..... و
- 4- من أنواع البطالة..... و
- 5- أنواع التطوع و

(ب) عللي ما يأتي

- سبب تنوع الخرائط

.....

- أهمية علم المساحة

.....

- يمثل النفط المورد الأساسي للوطن.

.....

السؤال الثاني

(أ)		اختار من العمود (أ) ما يناسبه من العمود (ب)	
		(أ)	(ب)
1	خريطة تاريخية.		تحتوي حقول النفط في منطقة الخليج العربي .
2	خريطة سكانية		توضح طريق هجرة نبينا محمد صل الله عليه وسلم من مكة المكرمة إلى المدينة المنورة.
3	خريطة مناخية		تبين الحدود بين المملكة العربية السعودية والمملكة الأردنية.
4	خريطة اقتصادية		تمثل مناطق نزول الأمطار صيفا في شبه الجزيرة العربية.
5	خريطة سياسية		توضح الهجرات البشرية في العالم.

(ب) اختاري المصطلح الصحيح من بين الأقواس وضعيه في الفراغ المناسب

(الصورة الجوية - الخريطة - الإنجاز الذاتي - العمل - الذوق العام)

- 1- هي وسيلة لتمثيل سطح الكرة الأرضية أو جزء منه بظواهره الطبيعية والبشرية على لوحة مستوية.
- 2- مجهودٌ إرادي يؤديه الإنسان لإنتاج سلعة أو تقديم خدمة، مقابل الحصول على أجر
- 3- هي صورة لجزء من سطح الأرض تلتقط بالطائرات والمناطيد المزودة بألات تصوير.
- 4- هو حالة داخلية مستمرة مرتبطة بمشاعر الفرد توجهه نحو التخطيط للعمل
- 5- هو جميع القيم والضوابط والآداب التي تحكم سلوك الإنسان في المجتمع.

السؤال الثالث

(أ) صوبي ما تحته خط في الجمل التالية

التصويب	الجملة	
	الأعمال التطوعية تكون تحت إشراف جهة بدون ترخص لها.	1
	حفظ النعمة وجمع الفائض من الطعام عمل تطوعي لا يخدم الوطن	2
	آداب الذوق العام غير مرتبطة بالمسؤولية.	3
	التطور التقني لم يقلل من الاعتماد على الأيدي العاملة.	4
	حدد إطار الخريطة بعد الانتهاء من رسمها.	5
	تنشابه الرموز في كل مفاتيح الخرائط	6

(يكتب في باثنان فقط)

(ب) عددي ما يأتي

1- الصور الجوية نوعان

.....

.....

2- فوائد نظام تحديد المواقع العالمي

.....

.....

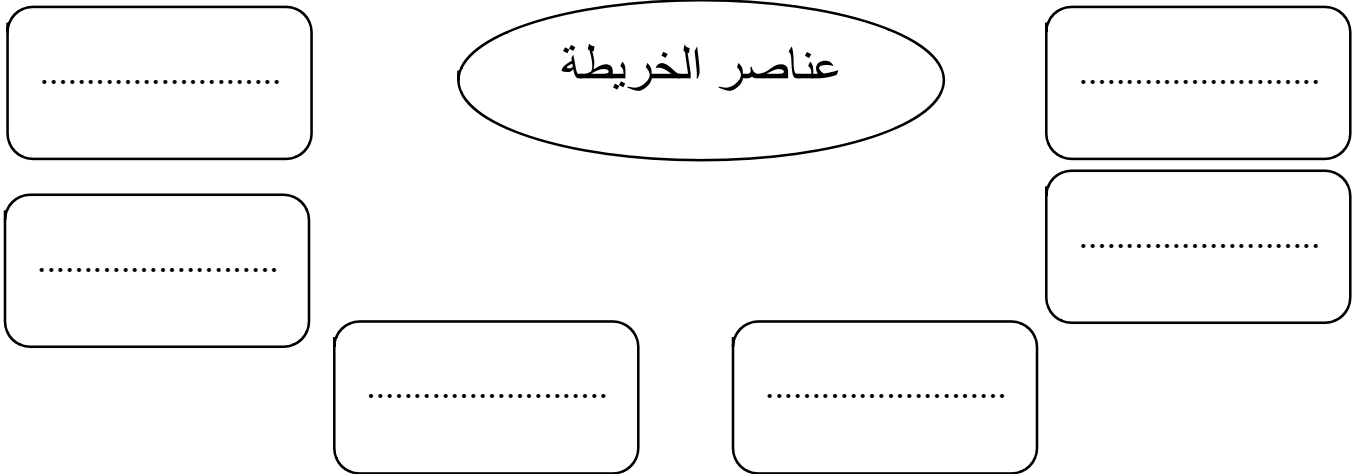
أقلمي الصفحة

السؤال الرابع

اختاري الإجابة الصحيحة من الإجابات المتعددة التالية على أن تكون إجابة واحد فقط

من أنواع الخرائط الطبيعية			
التضاريسية	الزراعية	السكانية	السياحية
برنامج (وقار)			
مساعدة كبار السن	تهتم بالحجاج	توعية المجتمع بأهمية حفظ النعمة	مستحي الضمان الاجتماعي
برنامج كن عوناً هدفه مساعدة			
إرشاد ضيوف الرحمن	توزيع فائض	الاقتصاد الوطني	السياحة
من أنواع الخرائط بشرية			
الخرائط المناخية	الخرائط التاريخية	خرائط النبات الطبيعي	

ب) صممي خريطة مفاهيم



انتهت الأسئلة
مع تمنياتي لك بالتوفيق
اذكروني بدعوة

معلمة المادة

رقم الجلوس	الصف الثالث المتوسط	أسئلة اختبار الفصل الدراسي الثالث 144 هـ
عدد الصفحات	الزمن ساعة	المادة اجتماعيات
اسم الطالبة		

نموذج الإجابة

السؤال	س 1	س 2	المصححة	المراجعة	المدققة
الدرجة رقما					
الدرجة كتابة					

استعيني بالله ثم أجيب عن الأسئلة التالية

السؤال الأول :

(أ) اكمل الفراغات التالية :

- 1- ينقسم العمل المساحي إلى قسمين هما الرفع و التوقيع
- 2- تنقسم المساحة المستوية إلى قسمين هما المساحة الطبوغرافية و المساحة التفصيلية
- 3- هناك عوامل متعددة تتحكم في اقتصاد أي دولة من أبرزها الاستقرار و الموارد
- 4- من أنواع البطالة الهيكلية و الاختيارية
- 5- أنواع التطوع تطوع فردي و تطوع مؤسسي

(ب) عللي ما يأتي

- سبب تنوع الخرائط .
- باختلاف المعلومات والموضوعات ومدى الحاجة إليها .
- أهمية علم المساحة
- 1- أساس مهم في معظم المشروعات الهندسية .
- 2- أساس في عمل الخرائط .
- يمثل النفط المورد الأساسي للوطن .
- 1- لأنها ثاني أكبر دولة في العالم تمتلك احتياطات نفطية .
- 2- ثاني أكبر منتج للنفط في العالم .

السؤال الثاني

(أ)		اختر من العمود (أ) ما يناسبه من العمود (ب)	
(أ)		(ب)	
1	خريطة تاريخية	٤	تحتوي حقول النفط في منطقة الخليج العربي .
2	خريطة سكانية	١	توضح طريق هجرة نبينا محمد صل الله عليه وسلم من مكة المكرمة إلى المدينة المنورة.
3	خريطة مناخية	٥	تبين الحدود بين المملكة العربية السعودية والمملكة الأردنية.
4	خريطة اقتصادية	٣	تمثل مناطق نزول الأمطار صيفا في شبه الجزيرة العربية.
5	خريطة سياسية	٢	توضح الهجرات البشرية في العالم.

(ب) اختاري المصطلح الصحيح من بين الأقواس وضعية في الفراغ المناسب

(الصورة الجوية - الخريطة - الإنجاز الذاتي - العمل - الذوق العام)

- 1- الخريطة هي وسيلة لتمثيل سطح الكرة الأرضية أو جزء منه بظواهره الطبيعية والبشرية على لوحة مستوية.
- 2- العمل مجهودٌ إرادي يؤديه الإنسان لإنتاج سلعة أو تقديم خدمة، مقابل الحصول على أجر
- 3- الصورة الجوية هي صورة لجزء من سطح الأرض تلتقط بالطائرات والمناطيد المزودة بألات تصوير.
- 4- الإنجاز الذاتي هو حالة داخلية مستمرة مرتبطة بمشاعر الفرد توجهه نحو التخطيط للعمل
- 5- الذوق العام هو جميع القيم والضوابط والآداب التي تحكم سلوك الإنسان في المجتمع.

السؤال الثالث

(أ) صوبي ما تحته خط في الجمل التالية

التصويب	الجملة
مرخص لها	1 الأعمال التطوعية تكون تحت إشراف جهة بدون ترخيص لها.
يخدم الوطن	2 حفظ النعمة وجمع الفائض من الطعام عمل تطوعي لا يخدم الوطن
مرتبطة	3 آداب الذوق العام غير مرتبطة بالمسؤولية.
يقلل	4 التطور التقني لم يقلل من الاعتماد على الأيدي العاملة.
قبل	5 حدد إطار الخريطة بعد الانتهاء من رسمها.
تختلف	6 تتشابه الرموز في كل مفاتيح الخرائط

(ب) عددي ما يأتي

1- الصور الجوية نوعان

١- الصور الجوية الرأسية.

٢- الصور الجوية المائلة.

2- فوائد نظام تحديد المواقع العالمي

١- تحديد المواقع تحديد دقيق.

٢- تحديد اتجاه القبلة.

السؤال الرابع

اختاري الإجابة الصحيحة من الإجابات المتعددة التالية على أن تكون إجابة واحد فقط

من أنواع الخرائط الطبيعية			
التضاريسية	الزراعية	السكانية	السياحية
برنامج (وقار)			
مساعدة كبار السن	تهتم بالحجاج	توعية المجتمع بأهمية حفظ النعمة	مستحي الضمان الاجتماعي
برنامج كنّ عوناً هدفه مساعدة			
إرشاد ضيوف الرحمن	توزيع فائض	الاقتصاد الوطني	السياحة
من أنواع الخرائط بشرية			
الخرائط المناخية	الخرائط التاريخية	خرائط النبات الطبيعي	

ب (صممي خريطة مفاهيم



انتهت الأسئلة
مع تمنياتي لك بالتوفيق
اذكروني بدعوة

معلمة المادة



السؤال الأول: اختاري الإجابة الصحيحة فيما يلي ثم قومي بتضليل الحرف المناسب لها في نموذج الإجابة (١ - ٣٠):

١	يحيط بالخريطة من الخارج يسمى:
أ- مقياس الرسم .	ب- عنوان الخريطة.
ج- اتجاه الخريطة.	د- إطار الخريطة .
٢	يساعد على تحديد إحداثيات أي مكان على سطح الأرض بدقة عالية وفق خطوط الطول ودوائر العرض مفهوم:
أ- نظام TRA.	ب-نظام GPS .
ج-نظام MPA.	د- نظام LBS.
٣	نقل المعالم التي في الطبيعة إلى الخريطة من عمل المساحي:
أ- الرفع .	ب- التوقيع .
ج- التصوير .	د-التخطيط.
٤	تحديد نقط على سطح الأرض للمساحات الشاسعة مع الأخذ في الحسبان كروية الأرض مفهوم المساحة:
أ-المستوية.	ب-الجيويديسية.
ج-الطبوغرافية.	د-التفصيلية.
٥	تحديد الزمن والموقع على سطح الكرة الأرضية مسمى المساحة:
أ- الأرضية.	ب- الملاحية.
ج- الفلكية.	د- المعدنية.
٦	تقاطع خطوط الطول مع دوائر العرض يعرف بـ:
أ-الإحداثيات.	ب- مقياس الرسم.
ج-عنوان الخريطة.	د-إطار الخريطة.
٧	توضح طريقة هجرة نبينا محمد صلى الله عليه وسلم من مكة المكرمة إلى المدينة المنورة خريطة:
أ- سياسية.	ب- مناخية.
ج- اقتصادية.	د- تاريخية.
٨	من تتوفر لديهم مهارات ولا تتوفر لهم فرص عمل بطالة:
أ-الهيكالية.	ب- الاختيارية.
ج-الوظيفية.	د-المقتعة.
٩	من المشكلات الاقتصادية الناتجة عن حركة العرض والطلب مشكلة:
أ- الاقتصاد.	ب- التضخم.
ج- البطالة.	د- الإنتاج .
١٠	قدرة الشخص على أداء واجباته وتحمل نتائج أقواله وأفعاله وما ينتج عنها مفهوم:
أ- المواطنة.	ب- الذوق العام.
ج- المسؤولية.	د- التطوع.
١١	عمل محدد يقوم على مبادرة ذاتية بدوافع دينية أو قيمية تطوع:
أ- مؤسسي.	ب- فردي.
ج- جماعي.	د- سياسي.
١٢	خدمة ضيوف الرحمن هدف برنامج:
أ- تكاتف .	ب- إحسان .
ج- وقار .	د- كن عوناً.
١٣	من آداب الذوق العام:
أ- خفض الصوت.	ب- توفر الرعاية الصحية.
ج- الدفاع عن الوطن .	د- حماية حقوق الانسان.
١٤	يبين موضوع الخريطة والمكان الذي تمثله مفهوم:
أ- عنوان الخريطة.	ب- الإتجاه .
ج- الإحداثيات .	د- المقياس.
١٥	النسبة بين البعد على الخريطة وما يقابله على الطبيعة مفهوم:
أ-الإحداثيات.	ب- مفتاح الخريطة.
ج- مقياس الرسم.	د- الإطار.
١٦	لا تحتاج إلى مفتاح لأنها توضح الظواهر كما هي في الطبيعة من صفات :

يتبع

أ- الظواهر الطبيعية.	ب- الاحداثيات.	ج- الخريطة.	د- الصور الجوية.
١٧	المحافظة على الصلوات الخمس من :		
أ-حقوق المواطن.	ب-واجبات المواطن.	ج-المسؤولية الذاتية.	د-الذوق العام.
١٨	مجموعة من المصطلحات و الرموز تمثل الظواهر والمعالم التي على الخريطة هي:		
أ- اتجاه الخريطة.	ب- مفتاح الخريطة.	ج- إطار الخريطة.	د- مقياس الرسم.
١٩	مساعدة كبار السن ودعم حقوقهم هدف برنامج:		
أ-وقار.	ب-إطعام.	ج-كن عوناً.	د-تكتاف.
٢٠	من يسخر نفسه ووقته وجهده أو ماله بطوعية لمساعدة الآخرين بما لا يلزمه مفهوم:		
أ- المتواضع.	ب-المتعاون.	ج-المحامي.	د-المتطوع.
٢١	هو ما ينجزه النشاط الإنساني من سلع أو خدمات منتجة من المواد الخام أو المعارف أو المهارات مفهوم:		
أ- العمل.	ب- الاقتصاد.	ج- التطوع.	د- الإنتاج.
٢٢	توضح خطوط الطول ودوائر العرض والحدود السياسية والإدارية من صفات:		
أ-الخريطة.	ب-الصور الجوية.	ج-الاحداثيات.	د-الظواهر الطبيعية.
٢٣	الثواب والأجر من فوائد:		
أ- التطوع.	ب-الذوق.	ج- المواطنة.	د- المسؤولية.
٢٤	ضعف الإنتاج من آثار البطالة:		
أ- الاجتماعية.	ب- الاقتصادية.	ج- السياسية.	د- الدينية.
٢٥	سهم أو نحوه يشير إلى جهة الشمال هو:		
أ-اتجاه الخريطة.	ب-إطار الخريطة.	ج-الإحداثيات.	د-مقياس الرسم.
٢٦	بذل الجهد والوقت أو المال أو الثلاثة معاً عن رغبة واختيار بغرض أداء خدمة دون توقع أجر مالي مفهوم:		
أ-التطوع	ب-المسؤولية.	ج-الواجبات.	د-الذوق العام.
٢٧	توفير التعليم العام من:		
أ-حقوق المواطن.	ب-واجبات المواطن.	ج-الذوق العام.	د-المسؤولية الذاتية.
٢٨	جميع القيم والضوابط والآداب التي تحكم سلوك الإنسان في المجتمع مفهوم:		
أ-المسؤولية.	ب-الذوق العام.	ج-المواطنة.	د-الحقوق.
٢٩	برنامج وطني لتقديم إعانات مالية شهرية لمدة سنة وتوطين الوظائف هو:		
أ-حافز.	ب-هدف.	ج-منشآت.	د-تيسير.
٣٠	العاملين دون إنجاز والعاملين الذين يؤدون أعمالاً دون مؤهلاتهم مفهوم البطالة:		
أ-الاختيارية.	ب-الفكرية.	ج-المقنعة.	د-الوظيفية.

السؤال الثاني:

أربط بين العمود (أ) و ما يناسبه في العمود (ب):

الرقم	العمود(أ)المفهوم	الحرف	العمود (ب)المعنى
١	الخرائط المناخية	أ	تمثل التوزيع البشري وكثافته في أماكن محددة.
٢	الخرائط السكانية	ب	تمثل الحدود بين الدول.
٣	الخرائط النبات الطبيعي	ج	تمثل اتجاه الرياح في فصل الصيف.
٤	الخرائط السياسية	د	تمثل توزيع الغابات المطيرة.
		هـ	تمثل مواقع المعارك وامتداد الدول.

السؤال الثالث: اجبني بصح أو خطأ في العبارات التالية ثم ظللي الحرف المناسب في ورقة الإجابة (١٠-١) .

يتبع

خطأ	صح	١	من أعمال التطوع أداء الواجبات المدرسية.
خطأ	صح	٢	التزام آداب الذوق العام يؤدي إلى المواطنة الصالحة.
خطأ	صح	٣	من واجبات الدولة توفير الأمن للجميع.
خطأ	صح	٤	عندما يكون الإنسان منجزاً فإنه يشعر بالرضا.
خطأ	صح	٥	حث الإسلام على العمل والإنجاز.
خطأ	صح	٦	تتشابه الرموز في كل مفاتيح الخرائط .
خطأ	صح	٧	التضخم غير مضر بالاقتصاد.
خطأ	صح	٨	من الآثار الاجتماعية للبطالة قلة الجرائم.
خطأ	صح	٩	الانتماء للوطن يعيق مسيرة التقدم.
خطأ	صح	١٠	الأمن والاستقرار أثر في نمو الاقتصاد الوطني.

السؤال الرابع: أجبني على الأسئلة التالية وفق ما درستي:

١- وضح المقصود من برنامج جودة الحياة؟

.....

.....

.....

٢- عددي العوامل التي تساعد على تحقيق الإنجاز الذاتي؟

.....

.....

٣ - برأيك ما أبرز فوائد الانتماء للوطن ((وفق ما درستي)).

.....

.....

.....

.....

★ سدد الله خطاكن ★
أ/ريم

نموذج الإجابة

السؤال الأول: اختاري الإجابة الصحيحة فيما يلي ثم قومي بتضليل الحرف المناسب لها في نموذج الإجابة (١ - ٣٠):

١	يحيط بالخريطة من الخارج يسمى:	أ- مقياس الرسم .	ب- عنوان الخريطة.	ج- اتجاه الخريطة.	د- إطار الخريطة.
٢	يساعد على تحديد إحداثيات أي مكان على سطح الأرض بدقة عالية وفق خطوط الطول ودوائر العرض مفهوم:	أ- نظام TRA.	ب- نظام GPS.	ج- نظام MPA.	د- نظام LBS.
٣	نقل المعالم التي في الطبيعة إلى الخريطة من عمل المساحي:	أ- الرفع.	ب- التوقيع .	ج- التصوير .	د- التخطيط.
٤	تحديد نقط على سطح الأرض للمساحات الشاسعة مع الأخذ في الحسبان كروية الأرض مفهوم المساحة:	أ- المستوية.	ب- الجيوديسية.	ج- الطبوغرافية.	د- التفصيلية.
٥	تحديد الزمن والموقع على سطح الكرة الأرضية مسمى المساحة:	أ- الأرضية.	ب- الملاحية.	ج- الفلكية.	د- المعدنية.
٦	تقاطع خطوط الطول مع دوائر العرض يعرف بـ:	أ- الإحداثيات.	ب- مقياس الرسم.	ج- عنوان الخريطة.	د- إطار الخريطة.
٧	توضح طريقة هجرة نبينا محمد صلى الله عليه وسلم من مكة المكرمة إلى المدينة المنورة خريطة:	أ- سياسية.	ب- مناخية.	ج- اقتصادية.	د- تاريخية.
٨	من تتوفر لديهم مهارات ولا تتوفر لهم فرص عمل بطالة:	أ- الهيكلية.	ب- الاختيارية.	ج- الوظيفية.	د- المقنعة.
٩	من المشكلات الاقتصادية الناتجة عن حركة العرض والطلب مشكلة:	أ- الاقتصاد.	ب- التضخم.	ج- البطالة.	د- الإنتاج .
١٠	قدرة الشخص على أداء واجباته وتحمل نتائج أقواله وأفعاله وما ينتج عنها مفهوم:	أ- المواطنة.	ب- الذوق العام.	ج- المسؤولية.	د- التطوع.
١١	عمل محدد يقوم على مبادرة ذاتية بدوافع دينية أو قيمية تطوع:	أ- مؤسسي.	ب- فردي.	ج- جماعي.	د- سياسي.
١٢	خدمة ضيوف الرحمن هدف برنامج:	أ- تكاتف .	ب- إحسان .	ج- وقار .	د- كن عوناً.
١٣	من آداب الذوق العام:	أ- خفض الصوت.	ب- توفر الرعاية الصحية.	ج- الدفاع عن الوطن .	د- حماية حقوق الانسان.
١٤	يبين موضوع الخريطة والمكان الذي تمثله مفهوم:	أ- عنوان الخريطة.	ب- الإتجاه .	ج- الإحداثيات .	د- المقياس.
١٥	النسبة بين البعد على الخريطة وما يقابله على الطبيعة مفهوم:	أ- الإحداثيات.	ب- مفتاح الخريطة.	ج- مقياس الرسم.	د- الإطار.

١٦	لا تحتاج إلى مفتاح لأنها توضح الظواهر كما هي في الطبيعة من صفات :	
أ- الظواهر الطبيعية.	ب- الاحداثيات.	ج- الخريطة.
د- الصور الجوية.		
١٧	المحافظة على الصلوات الخمس من :	
أ- حقوق المواطن	ب- واجبات المواطن.	ج- المسؤولية الذاتية.
د- الذوق العام.		
١٨	مجموعة من المصطلحات و الرموز تمثل الظواهر والمعالم التي على الخريطة هي :	
أ- اتجاه الخريطة.	ب- مفتاح الخريطة.	ج- إطار الخريطة.
د- مقياس الرسم.		
١٩	مساعدة كبار السن ودعم حقوقهم هدف برنامج :	
أ- أوقار.	ب- إ طعام.	ج- كن عوناً.
د- تكاتف.		
٢٠	من يسخر نفسه ووقته وجهده أو ماله بطوعية لمساعدة الآخرين بما لا يلزمه مفهوم :	
أ- المتواضع.	ب- المتعاون.	ج- المحامي.
د- المتطوع.		
٢١	هو ما ينجزه النشاط الإنساني من سلع أو خدمات منتجة من المواد الخام أو المعارف أو المهارات مفهوم :	
أ- العمل.	ب- الاقتصاد.	ج- التطوع.
د- الإنتاج.		
٢٢	توضح خطوط الطول ودوائر العرض والحدود السياسية والإدارية من صفات :	
أ- الخريطة.	ب- الصور الجوية.	ج- الاحداثيات.
د- الظواهر الطبيعية.		
٢٣	الثواب والأجر من فوائد :	
أ- التطوع.	ب- الذوق.	ج- المواطنة.
د- المسؤولية.		
٢٤	ضعف الإنتاج من آثار البطالة :	
أ- الاجتماعية.	ب- الاقتصادية.	ج- السياسية.
د- الدينية.		
٢٥	سهم أو نحوه يشير إلى جهة الشمال هو :	
أ- اتجاه الخريطة.	ب- إطار الخريطة.	ج- الإحداثيات.
د- مقياس الرسم.		
٢٦	بذل الجهد والوقت أو المال أو الثلاثة معاً عن رغبة واختيار بغرض أداء خدمة دون توقع أجر مالي مفهوم :	
أ- التطوع.	ب- المسؤولية.	ج- الواجبات.
د- الذوق العام.		
٢٧	توفير التعليم العام من :	
أ- حقوق المواطن.	ب- واجبات المواطن.	ج- الذوق العام.
د- المسؤولية الذاتية.		
٢٨	جميع القيم والضوابط والآداب التي تحكم سلوك الإنسان في المجتمع مفهوم :	
أ- المسؤولية.	ب- الذوق العام.	ج- المواطنة.
د- الحقوق.		
٢٩	برنامج وطني لتقديم إعانات مالية شهرية لمدة سنة وتوطين الوظائف هو :	
أ- حافز.	ب- هدف.	ج- منشآت.
د- تيسير.		
٣٠	العاملين دون إنجاز والعاملين الذين يؤدون أعمالاً دون مؤهلاتهم مفهوم البطالة :	
أ- الاختيارية.	ب- الفكرية.	ج- المقنعة.
د- الوظيفية.		

السؤال الثاني:

أربط بين العمود (أ) و ما يناسبه في العمود (ب):

الرقم	العمود (أ) المفهوم	الحرف	العمود (ب) المعنى
١	الخرائط المناخية (ج)	أ	تمثل التوزيع البشري وكثافته في أماكن محددة.
٢	الخرائط السكانية (أ)	ب	تمثل الحدود بين الدول.
٣	الخرائط النبات الطبيعية (د)	ج	تمثل اتجاه الرياح في فصل الصيف.
٤	الخرائط السياسية (ب)	د	تمثل توزيع الغابات المطيرة.
		هـ	تمثل مواقع المعارك وامتداد الدول.

السؤال الثالث: اجبني بصح أو خطأ في العبارات التالية ثم ظللي الحرف المناسب في ورقة الإجابة (١-١٠):

خطأ	صح	١	من أعمال التطوع أداء الواجبات المدرسية.
خطأ	صح	٢	التزام آداب الذوق العام يؤدي إلى المواطنة الصالحة.
خطأ	صح	٣	من واجبات الدولة توفير الأمن للجميع.
خطأ	صح	٤	عندما يكون الإنسان منجزاً فإنه يشعر بالرضا.
خطأ	صح	٥	حث الإسلام على العمل والإنجاز.
خطأ	صح	٦	تتشابه الرموز في كل مفاتيح الخرائط .
خطأ	صح	٧	التضخم غير مضر بالاقتصاد.
خطأ	صح	٨	من الآثار الاجتماعية للبطالة قلة الجرائم.
خطأ	صح	٩	الانتماء للوطن يعيق مسيرة التقدم.
خطأ	صح	١٠	الأمن والاستقرار أثر في نمو الاقتصاد الوطني.

السؤال الرابع: اجبني على الأسئلة التالية وفق ما درستي:

١- وضح المقصود من برنامج جودة الحياة؟

من برامج رؤية المملكة ٢٠٣٠ برنامج جودة الحياة الذي يخدم عدة جوانب، منها: الجانب الاقتصادي، ويسهم في خفض البطالة بتوفير فرص عمل كثيرة في عدد من الأنشطة الترفيهية، والخدمية، والترويجية، والرعاية الصحية، والإسكان، والنقل.

٢- عددي العوامل التي تساعد على تحقيق الإنجاز الذاتي؟

-التزود بالمعارف والمهارات. /-الطموح. /-المثابرة والمواظبة. /-تحمل المسؤوليات. /-الثقة بالنفس. /-الاستفادة من الأخطاء من أجل الا تتكرر.

٣ - برأيك ما أبرز فوائد الانتماء للوطن ((وفق ما درستي)).

من سمات المواطن الصالح قوة ولائه وانتمائه؛ بحيث يكون قادراً على الوعي بأحوال وطنه وقضاياه والتحديات التي تواجهه، كما يكون قادراً على مقاومة الشائعات التي تضر بوطنه، ومقدراً لجهود الدولة ومنجزاتها في خدمة الدين والفرد والمجتمع.

ومن أبرز فوائد الانتماء للوطن ما يأتي:

- تحقيق أمر شرعي أمر الله به في القرآن الكريم، وأمر به نبيّه محمد ﷺ.
- تعزيز الوحدة الوطنية، واستقرار الوطن، وتماسكه.
- تحقيق الاستقرار النفسي المؤدي إلى التفاعل الإيجابي، والمواطنة الصالحة.
- دفع مسيرة التقدم والتطور في البلاد، سياسياً واقتصادياً.
- حماية الوطن ومكتسباته.
- تأمين الاستقرار المجتمعي الخالي من العنف والإرهاب والانحلال.



سدد الله خطاكن

أ/ ريم ابومازن