

تم تحميل وعرض المادة من

منهجي

mnhaji.com



موقع منهجي منصة تعليمية توفر كل ما يحتاجه المعلم
والطالب من حلول الكتب الدراسية وشرح للدروس
بأسلوب مبسط لكافة المراحل التعليمية وتوزيع
المناهج وتحضير وملخصات ونماذج اختبارات وأوراق
عمل جاهزة للطباعة والتحميل بشكل مجاني

حمل تطبيق منهجي ليصلك كل جديد



	الدرجة	١٤٤٦ هـ	العام الدراسي	الرعاية الصحية	المادة
٢٠		ثالث ثانوي مسار الصحة والحياة			الصف
نموذج رقم (١)	اختبار الفترة				
()	الصف الأول				اسم الطالب

السؤال الأول / ظلّل حرف الإجابة الصحيحة من العمود (ب) بما يناسبها من العمود (أ) في النموذج المرفق : درجتان

العمود (ب)	حرف الإجابة	العمود (أ)	رقم السؤال
الملف الصحي الموحد	A ()	مجموعة خاصة من الأدوات المنحنية أو المستقيمة تكون مسننة النهايات تستخدم لضغط الاوعية الدموية	1
حفظ الملفات	B ()	يستمع الطبيب إلى الأصوات الصادرة من داخل جسم المريض	2
الاصغاء	C ()	الترتيب المنهجي أو المنظم للأوراق أو البطاقات بحيث يكون الرجوع اليها سهلا في المستقبل	3
المرفقات	D ()	عبارة عن منصة صحية رقمية توفر معلومات محدثة للمرضى	4

السؤال الثاني : ظلل حرف (ص) إذا كانت الإجابة صحيحة، وحرف (خ) إذا كانت العبارة خاطئة في النموذج المرفق : (٦ درجات)

الحالة الدماغية التي يشير اليها محيط رأس الرضيع فوق الرتبة المئوية ٩٥ هو تراكم السوائل حول الدماغ	6
وضعية الركبة والصدر تستخدم في الفحوصات المهبلية والقسطرة البولية	7
لا يمكن الإفصاح عن المعلومات الطبية السرية ما لم يوقع المريض على تصريح بالإفصاح عن المعلومات لشركات التأمين	8
عند تعبئة استمارة التأمين ، ما عليك سوى تضمين معلومات موجزة مختصرة	9
توفر الهيئة العامة السعودية للغذاء والدواء قوائم بالأدوية المتوفرة في المملكة العربية السعودية	10
السجل المغلق هو سجل لمريض توفي ، أو نقل إلى طبيب أو منشأة أخرى	11

السؤال الثالث : أذكر اثنين من المعلومات التي يجب جمعها قبل إعطاء أي دواء ؟ (٢ درجات)

-١
-٢

(٥ درجات كل فقرة نصف درجة)

السؤال الرابع / أختار الإجابة الصحيحة في ما يلي ؟

١- تستخدم هذه الوضعية في لتسهيل التنفس والتوتر وتشجيع التصريف ولفحص الرأس والرقبة :			
أ/ وضعية فاوولر	ب/ وضعية سيمز	ج/ وضعية الركبة	د/ وضعية الاستلقاء
٢- يستخدم الطبيب يديه أو أصابعه ليشعر بنواحي الجسم المختلفة :			
أ/ الجس	ب/ الملاحظة	ج/ القرع	د/ الإصغاء
٣- من طرق إعطاء الأدوية ويطبق مباشرة على سطح الجلد ::			
أ/ فموي	ب/ شرجي	ج/ موضعي	د/ الاستنشاق
٤- من أنواع الحقن وتكون الحقنة تحت الطبقة العلوية من الجلد ومن امثلتها اختبار التحسس :			
أ/ تحت الجلد	ب/ عضلي	ج/ وريدي	د/ داخل الادمة
٥- الكبسولة و الأقراص و قرص المص والمغلف المعوي أمثلة على اشكال الأدوية :			
أ/ السوائل	ب/ المواد لصلبة	ج/ المواد شبه الصلبة	د/ المواد الغازية
٦- هو سجل قيد الاستخدام حاليا لان المستشفى تعين المريض في الوقت الراهن:			
أ/ السجل النشط	ب/ السجل المغلق	ج/ السجل غير النشط	د/ السجل المهمل
٧- أنظمة السجلات الصحية الإلكترونية تعرف ب :			
أ/ بوابات المرضى	ب/ البريد الصوتي	ج/ خدمات الرد	د/ المجيب الآلي
٨- خطاب يستخدم لإعلام المريض بموعد محدد ويجب تضمين جميع المعلومات بما فيها الوقت والتاريخ واليوم :			
أ/ خطاب الاستدعاء	ب/ خطاب الموعد	ج/ خطاب الاستشارة	د/ خطاب الاستفسار
٩- سجل يومي لجميع المرضى المعانين وجميع الرسوم المستحقة وجميع المدفوعات المستلمة :			
أ/ اسجل الحساب	ب/ قسيمة الدفع	ج/ البيان اليومي	د/ بطاقة الحساب
١٠- لفزر المكالمات يجب عليك الحصول على معلومات محددة وتشمل:			
أ/ اسم المتصل	ب/ رقم المريض	ج/ تاريخ الميلاد	د/ جميع ما سبق

(٤ درجات واحدة)

الجانب العملي / أ- ماذا تمثل الأشكال الموضحة ادناه ؟

(درجة واحدة)

ب/ ما المقصود ب ROA ؟

المادة	الرعاية الصحية	العام الدراسي	١٤٤٦هـ	الدرجة	
الصف	ثالث ثانوي مسار الصحة والحياة				٢٠
اختبار الفترة					
نموذج رقم (١)					

اسم الطالب	()
------------	-----

نموذج الإجابة

السؤال الأول / ظلّل حرف الإجابة الصحيحة من العمود (ب) بما يناسبها من العمود (أ) في النموذج المرفق : درجتان

رقم السؤال	العمود (أ)	حرف الإجابة	العمود (ب)
1	مجموعة خاصة من الأدوات المنحنية أو المستقيمة تكون مسننة النهايات تستخدم لضغط الاوعية الدموية	A (4)	الملف الصحي الموحد
2	يستمع الطبيب إلى الأصوات الصادرة من داخل جسم المريض	B (3)	حفظ الملفات
3	الترتيب المنهجي أو المنظم للأوراق أو البطاقات بحيث يكون الرجوع اليها سهلاً في المستقبل	C (2)	الاصغاء
4	عبارة عن منصة صحية رقمية توفر معلومات محدثة للمرضى	D (1)	المرفقات

السؤال الثاني : ظلّل حرف (ص) إذا كانت الإجابة صحيحة، وحرف (خ) إذا كانت العبارة خاطئة في النموذج المرفق : (٦ درجات)

6	الحالة الدماغية التي يشير اليها محيط رأس الرضيع فوق الرتبة المئوية ٩٥ هو تراكم السوائل حول الدماغ	صح
7	وضعية الركبة والصدر تستخدم في الفحوصات المهبلية والقسطرة البولية	خطأ
8	لا يمكن الإفصاح عن المعلومات الطبية السرية ما لم يوقع المريض على تصريح بالإفصاح عن المعلومات لشركات التأمين	صح
9	عند تعبئة استمارة التأمين ، ما عليك سوى تضمين معلومات موجزة مختصرة	خطأ
10	توفر الهيئة العامة السعودية للغذاء والدواء قوائم بالأدوية المتوفرة في المملكة العربية السعودية	صح
11	السجل المغلق هو سجل لمريض توفي ، أو نقل إلى طبيب أو منشأة أخرى	خطأ

السؤال الثالث : أذكر اثنين من المعلومات التي يجب جمعها قبل إعطاء أي دواء ؟ (٢ درجات)

- ١- عمل الدواء
- ٢- كيفية الحصول عليه
- ٣- استخدامات الدواء
- ٤- الجرعة

ممكن تكون الإجابة غير هذه النقاط صفحة ٢٢٥ - ٢٢٦




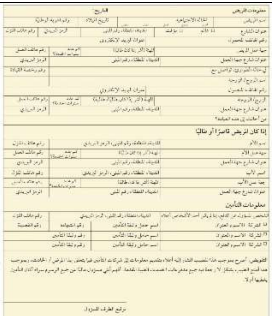


(٥ درجات كل فقرة نصف درجة)

السؤال الرابع / أختار الإجابة الصحيحة في ما يلي ؟

١- تستخدم هذه الوضعية في لتسهيل التنفس والتوتر وتشجيع التصريف ولفحص الرأس والرقبة :			
أ/ وضعية فاوولر	ب/ وضعية سيمز	ج/ وضعية الركبة	د/ وضعية الاستلقاء
٢- يستخدم الطبيب يديه أو أصابعه ليشعر بنواحي الجسم المختلفة :			
أ/ الجبس	ب/ الملاحظة	ج/ القرع	د/ الإصغاء
٣- من طرق إعطاء الأدوية ويطبق مباشرة على سطح الجلد ::			
أ/ فموي	ب/ شرجي	ج/ موضعي	د/ الاستنشاق
٤- من أنواع الحقن وتكون الحقنة تحت الطبقة العلوية من الجلد ومن امثلتها اختبار التحسس :			
أ/ تحت الجلد	ب/ عضلي	ج/ وريدي	د/ داخل الادمة
٥- الكبسولة و الأقراص و قرص المص والمغلف المعوي أمثلة على اشكال الأدوية :			
أ/ السوائل	ب/ المواد لصلبة	ج/ المواد شبه الصلبة	د/ المواد الغازية
٦- هو سجل قيد الاستخدام حاليا لان المستشفى تعين المريض في الوقت الراهن:			
أ/ السجل النشاط	ب/ السجل المغلق	ج/ السجل غير النشاط	د/ السجل المهمل
٧- أنظمة السجلات الصحية الإلكترونية تعرف ب :			
أ/ بوابات المرضى	ب/ البريد الصوتي	ج/ خدمات الرد	د/ المجيب الآلي
٨- خطاب يستخدم لإعلام المريض بموعد محدد ويجب تضمين جميع المعلومات بما فيها الوقت والتاريخ واليوم :			
أ/ خطاب الاستدعاء	ب/ خطاب الموعد	ج/ خطاب الاستشارة	د/ خطاب الاستفسار
٩- سجل يومي لجميع المرضى المعانين وجميع الرسوم المستحقة وجميع المدفوعات المستلمة :			
أ/ اسجل الحساب	ب/ قسيمة الدفع	ج/ البيان اليومي	د/ بطاقة الحساب
١٠- لفزر المكالمات يجب عليك الحصول على معلومات محددة وتشمل:			
أ/ اسم المتصل	ب/ رقم المريض	ج/ تاريخ الميلاد	د/ جميع ما سبق

(٤ درجات واحدة)

الجانب العملي / أ- ماذا تمثل الأشكال الموضحة ادناه ؟

			
أدوات إزالة الغرز	استمارة معلومات المريض	جهاز تخطيط القلب	وضعية الاستلقاء

(درجة واحدة)

ب/ ما المقصود ب ROA ؟

أضيفت للحساب



السؤال الأول: (أ) اختاري الإجابة الصحيحة فيما يلي:

1	عادة مايشير أي محيط رأس اعلى من الرتبة المئوية 95 الى وجود	أ قصور القلب	ب استسقاء الرأس	ج صغر الدماغ	د تورم
2	الموازين المترية تقيس بالكيلوجرام وقيمة اصغر تدريجة فيها هي	أ ٠.١ كغ	ب ١ كغ	ج اجرام	د ٠.٥ كغ
3	الوضعية المستخدمة في فحص او علاج الظهر والعمود الفقري هي وضعية	أ سمير	ب الإنكباب على البطن	ج الاستلقاء	د الركبة - الصدر
4	أداة لقياس التوتر او الضغط داخل العين هي	أ مقياس ضغط العين	ب منظار العين	ج الملقاط	د المنظار
5	مجموعة من الأدوات تستخدم لضغط الاوعية الدموية لإيقاف النزف او الإمساك بالأنسجة هي	أ المشارط	ب المرقات	ج المبادعات	د الابر
6	تنشأ النبضة في	أ العقدة الجيبية الأذينية	ب الصمام المطرالي	ج الأذين الايسر	د الشريان الاورطي

(ب) اختاري من المجموعة (أ) الخاصية المناسبة لها من المجموعة (ب) وذلك بكتابة الرقم المناسب أمامها ؟

(أ)	الرقم	(ب)
(1) الدواء		تنكس في العمود الفقري ناجم عن تدهور الغضروف والعظم
(2) هشاشة العظام		السماح بفحص الحلق
(3) الحسر		عقار يستخدم للعلاج او الوقاية
(4) خافض اللسان		قصر النظر
		بعد النظر



السؤال الثاني :

أ) أكمل الفراغات التالية بما يناسبها:

- 1) من المعلومات الدوائية التي يلزم الحصول عليها من مثير موثوق قبل إعطاء الدواء
- 2) من طرق الحقن و.....
- 3) اثناء ECG تحدث الموجة p
- 4) من الصحيحات الستة هي و.....

ب) قارني بين كل مما يلي حسب أوجه المقارنة الموضحة :

أوجه المقارنة	وضعية سيمز	وضعية فاوولر
الاستخدام		
طريقة الطبيب	الجس	القرع

انتهت الأسئلة ، أتمنى لك دوام التوفيق

موقع منهجي
mnhaji.com

