

تم تحميل وعرض المادة من

منهجي

mnhaji.com



موقع منهجي منصة تعليمية توفر كل ما يحتاجه المعلم
والطالب من حلول الكتب الدراسية وشرح للدروس
بأسلوب مبسط لكافة المراحل التعليمية وتوزيع
المناهج وتحضير وملخصات ونماذج اختبارات وأوراق
عمل جاهزة للطباعة والتحميل بشكل مجاني

حمل تطبيق منهجي ليصلك كل جديد





موقع منهجي
mnhaji.com

أوراق عمل

الدراسات الاجتماعية

الصف السادس الابتدائي

الفصل الدراسي الثالث

الاسم /

الفصل /

مادة الدراسات الاجتماعية
الصف السادس الابتدائي

الدرس الحادي والعشرون المواطنة



أصنف الآتي في مكانه المناسب من الجدول:

(التزام المسؤولية - التزام الأنظمة - تحقيق الأمن - التعليم والصحة - الفخر بالوطن وتراثه - حفظ الدين - المشاركة المجتمعية - العدل والمساواة)

واجبات المواطن	حقوق المواطن
.....
.....
.....
.....
.....

ما معنى المواطنة؟

.....

.....

.....

.....

.....

موقع منهجي
mnhaji.com



الدرجة

اسم الطالب/ة:



.....



الدرس الثاني والعشرون الأمانة والصدق

مادة الدراسات الاجتماعية
الصف السادس الابتدائي

ما أثر انتشار الأمانة على الوطن؟

.....
.....
.....

أضع علامة (✓) أمام العبارة الصحيحة، وعلامة (x) أمام العبارة الخاطئة فيما يلي:

- من الصدق في العمل تجنب الكذب والمبالغة.
- الإخلاص وإتقان العمل من صفات الصادق.
- لا يستطيع الأمين الحفاظ على الدين.

أكمل الفراغات التالية بما يناسبها مما بين الأقواس:

(الغش - الصدق - الأسرار - العمل)

- من مظاهر الأمانة: تجنب وحفظ
-: قول الحقيقة دون تغيير.
- يكون الصدق في بتجنب الغش والتزوير.

موقع منهجي
mnhaji.com



الدرجة

اسم الطالب/ة:





أضع علامة (✓) أمام الإجابة الصحيحة:

• تقوم الآثار بتعزيز:

- الموارد الاقتصادية والسياحية.
- الانتماء الوطني.
- الجانب الثقافي.
- جميع ما سبق.

أختار الإجابة الصحيحة:

يوجد الفاو في وادي الدواسر جنوب		
أ- مكة المكرمة	ب- المدينة المنورة	ج- الرياض
توجد الرّيذة في المدينة المنورة.		
أ- شمال شرق	ب- جنوب شرق	ج- جنوب غرب
يرجع جرش إلى		
أ- العصور الإسلامية	ب- العصر العباسي	ج- عصور ما قبل الإسلام

ما مهام عالم الآثار؟

.....

.....

.....

.....





ما وظائف الضرائب؟

.....
.....
.....

أضع علامة (✓) أمام العبارة الصحيحة، وعلامة (x) أمام العبارة الخاطئة فيما يلي:

- تفرض ضريبة السلع المنتقاة على ما يحصل عليه غير السعوديين من دَخل غير الرواتب.
- تتولى هيئة الزكاة والضريبة والجمارك تحصيل الضرائب ومتابعتها.
- تفرض ضريبة على مشروبات الطاقة بنسبة ٥٠٪.
- تفرض ضريبة القيمة المضافة على التصرفات العقارية بنسبة ١٥٪.

أختار الإجابة الصحيحة:

تصرف الزكاة		
ج- جميع ما سبق	ب- على نفقات الخدمات والتنمية لمصلحة الوطن والمواطن	أ- لمستحقي الضمان الاجتماعي
تصرف الضرائب		
ج- جميع ما سبق	ب- على نفقات الخدمات والتنمية لمصلحة الوطن والمواطن	أ- لمستحقي الضمان الاجتماعي



أضع علامة (✓) أمام العبارة الصحيحة، وعلامة (x) أمام العبارة الخاطئة فيما يلي:

- تمكننا خطوط الطول ودوائر العرض من تحديد المواقع.
- تمكننا دوائر العرض من تحديد التوقيت.
- تمكننا خطوط الطول من تحديد المناخ.

أكمل الفراغات التالية:

- خط دوائر العرض الرئيسي هو خط، ودرجته
- خط خطوط الطول الرئيسي هو خط، ودرجته
- يقع مدار في شمال خط الاستواء بينما يقع مدار في شمال جنوب الاستواء.

أختار الإجابة الصحيحة:

تدور الأرض حول محورها من الغرب إلى الشرق مرة كل ساعة.		
أ- ٦	ب- ١٢	ج- ٢٤
عدد دوائر العرض دائرة.		
أ- ٣٦٠	ب- ١٦٠	ج- ١٨٠
يزداد التوقيت ساعة واحدة كلما اتجهنا خط جرينتش بمقدار ١٥ خطأً طولياً.		
أ- شرق	ب- شمال	ج- غرب





أذكر أربع من السمات السياسية والاقتصادية للموقع الجغرافي لوطننا:

١.
٢.
٣.
٤.

أضع علامة (✓) أمام العبارة الصحيحة، وعلامة (✗) أمام العبارة الخاطئة فيما يلي:

- يُقصد بالموقع الجغرافي للمملكة موقعها بالنسبة لخطوط الطول ودوائر العرض.
- تقع المملكة العربية السعودية في أقصى الجنوب الغربي من قارة آسيا.
- المملكة العربية السعودية فيها أول بيت وضع للناس.

أختار الإجابة الصحيحة:

يحد المملكة العربية السعودية غرباً		
أ- الخليج العربي والإمارات العربية المتحدة	ب- البحر الأحمر	ج- الجمهورية اليمنية وسلطنة عمان
يحد المملكة العربية السعودية دولة الكويت وجمهورية العراق.		
أ- غرباً	ب- شمالاً	ج- شرقاً
تقع المملكة العربية السعودية خط جرينتش.		
أ- شرق	ب- شمال	ج- غرب





أضع علامة (✓) أمام العبارة الصحيحة، وعلامة (x) أمام العبارة الخاطئة فيما يلي:

- تقع أجزاء واسعة من المملكة العربية السعودية ضمن الحزام الصحراوي المداري.
- مناخ المملكة العربية السعودية حار شتاءً وبارد صيفاً.
- يقتصر تأثير الخليج العربي والبحر الأحمر على السواحل المجاورة لهما.

أختار الإجابة الصحيحة:

تسقط الأمطار في جميع فصول السنة تقريباً في		
أ- الجنوب الغربي	ب- الشمال الغربي	ج- الجنوب الشرقي
ترتفع الرطوبة في المملكة في		
أ- المناطق الشمالية	ب- المرتفعات الغربية والجنوبية الغربية	ج- السواحل
تتصف المرتفعات الغربية والجنوبية الغربية في المملكة بمناخ		
أ- شديد الجفاف	ب- شبه جاف	ج- رطب

كيف يؤثر الموقع الفلكي للمملكة على مناخها؟

.....

.....

.....

.....

.....





ما أهمية إجراء التعداد السكاني؟

- ●
- ●
- ●

أضع علامة (✓) أمام العبارة الصحيحة، وعلامة (x) أمام العبارة الخاطئة فيما يلي:

- عدد السكان الإناث الغير سعوديين أكثر من عدد السكان الإناث السعوديين في المملكة.
- أجري التعداد السكاني الشامل الأخير عام ١٣٩٤هـ.
- السكان هم المواطنون الوافدون إلى الوطن من ذكور وإناث.

أعلل الآتي:

- يكثر السكان في المدن.

-
-





أضع علامة (✓) أمام العبارة الصحيحة، وعلامة (x) أمام العبارة الخاطئة فيما يلي:

- لكل من الأسرة والمدرسة دور في بناء المجتمع.
- لا يوجد علاقة مشتركة بين الأسرة والمدرسة والمجتمع.
- تعزز المشاركة الثقة وتحمل المسؤولية بين أفراد المجتمع.

أكمل الفراغات التالية:

(التقاليد - المخالفات - العادات)

- يجب أن تكون المشاركة خالية من الشرعية.
- يجب أن تتوافق المشاركة مع و.....

أذكر ثلاث من فوائد المشاركة في المجتمع:

-
-
-



أوراق عمل

مادة الدراسات الاجتماعية

الصف السادس الابتدائي

الفصل الدراسي الثالث

المشرف التربوي	مدير المدرسة	معلم المادة



بسم الله الرحمن الرحيم
ورقة عمل درس (المواطنة)

اسم الطالب : / الصف : سادس /

س / عرف مفهوم المواطنة ؟

ج /

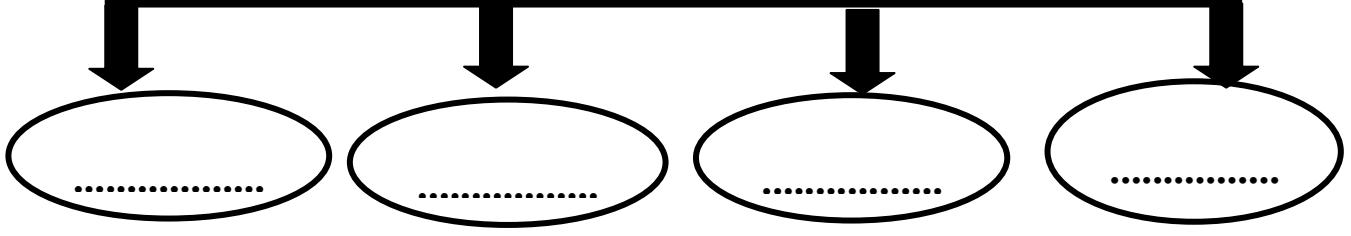
س / اذكر اربعة من حقوق المواطن ؟

حقوق المواطن

٤	٣	٢	١
------------	------------	------------	------------

س / اذكر مظاهر انتماء الإنسان إلى وطنه ؟

مظاهر انتماء الإنسان إلى وطنه



بسم الله الرحمن الرحيم
ورقة عمل درس (المواطنة)

اسم الطالب : / الصف : سادس /

س / عرف مفهوم المواطنة ؟

ج /


س / اذكر اربعة من حقوق المواطن ؟

حقوق المواطن

٤	٣	٢	١
------------	------------	------------	------------

س / اذكر مظاهر انتماء الإنسان إلى وطنه ؟

مظاهر انتماء الإنسان إلى وطنه





بسم الله الرحمن الرحيم

ورقة عمل درس (الأمانة والصدق)

اسم الطالب : الصف : سادس /

س / اذكر اثنين من مظاهر الأمانة ؟

- ج / ١ /
- ٢ /

س / ضع علامة (√) أمام العبارة الصحيحة وعلامة (×) أمام العبارة الخاطئة فيما يلي :

- ١ - الأمانة ضد الخيانة
- ٢ - إهمال الأمانة يقود إلى عقاب دنيوي وعقاب في الآخرة
- ٣ - خيانة الوطن مخالف للأمانة

س / أكمل الفراغات الآتية بالكلمات المناسبة :

- الفساد الأمن الاستقرار الغلاء

الأمانة تحقق للوطن ، وتحافظ على الدين ، وتمنع
وتؤدي إلى

بسم الله الرحمن الرحيم

ورقة عمل درس (الأمانة والصدق)

اسم الطالب : الصف : سادس /

س / اذكر اثنين من مظاهر الأمانة ؟

- ج / ١ /
- ٢ /

س / ضع علامة (√) أمام العبارة الصحيحة وعلامة (×) أمام العبارة الخاطئة فيما يلي :

- ١ - الأمانة ضد الخيانة
- ٢ - إهمال الأمانة يقود إلى عقاب دنيوي وعقاب في الآخرة
- ٣ - خيانة الوطن مخالف للأمانة

س / أكمل الفراغات الآتية بالكلمات المناسبة :

- الفساد الأمن الاستقرار الغلاء

الأمانة تحقق للوطن ، وتحافظ على الدين ، وتمنع
وتؤدي إلى



بسم الله الرحمن الرحيم

ورقة عمل درس (الآثار التاريخية الوطنية)

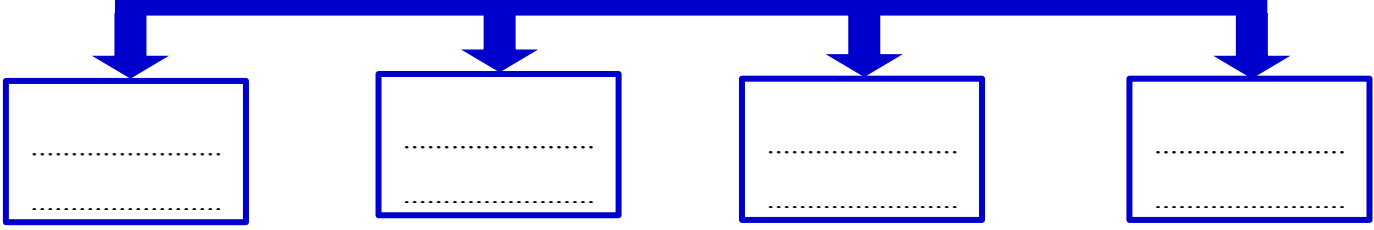
اسم الطالب : الصف : سادس /

س / أكمل الفراغات التالية :

- أ - الآثار سجل مهم للوطن .
- ب - من أمثلة أعمال التنقيب الأثري في وطني
- ج - الآثار ثروة وطنية والحفاظ عليها وطني .

س / اذكر طريقة المحافظة على الآثار؟

طريقة المحافظ على الآثار



س / ماذا يستفيد الوطن من الآثار :

- أ -
- ب -

بسم الله الرحمن الرحيم

ورقة عمل درس (الآثار التاريخية الوطنية)

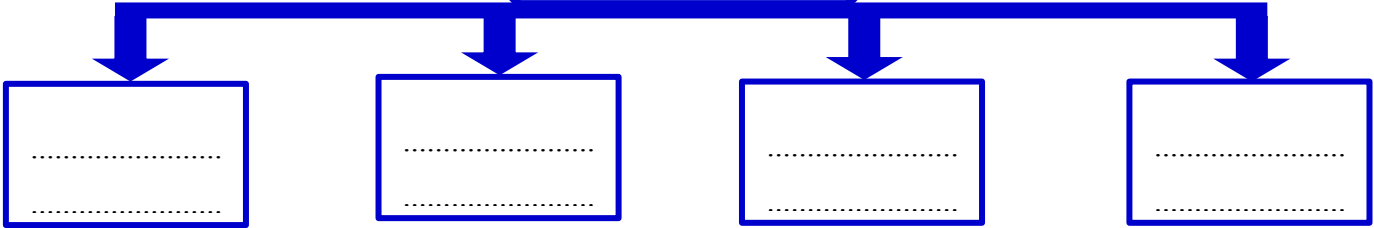
اسم الطالب : الصف : سادس /

س / أكمل الفراغات التالية :

- أ - الآثار سجل مهم للوطن .
- ب - من أمثلة أعمال التنقيب الأثري في وطني
- ج - الآثار ثروة وطنية والحفاظ عليها وطني .

س / اذكر طريقة المحافظة على الآثار؟

طريقة المحافظ على الآثار



س / ماذا يستفيد الوطن من الآثار :

- أ -
- ب -

بسم الله الرحمن الرحيم

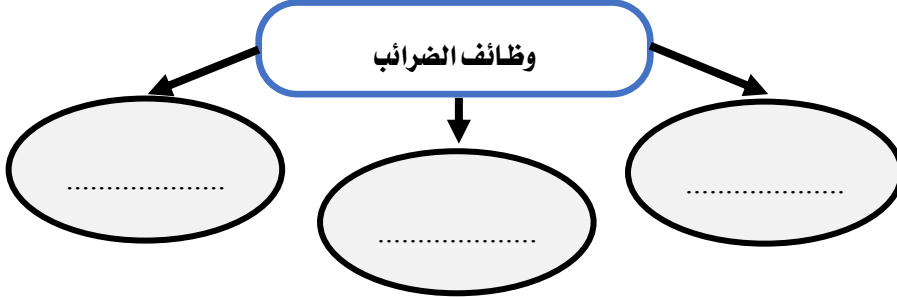
ورقة عمل درس (الضرائب)

اسم الطالب : / الصف : سادس /

س / عرف الضريبة ؟

ج /

س / اذكر وظائف الضرائب :



س / ضع علامة (√) أمام العبارة الصحيحة وعلامة (×) أمام العبارة الخاطئة فيما يلي :

- ١ - الجهة التي تتولى تحصيل الضرائب في وطني هي الهيئة العامة للزكاة والدخل
- ٢ - ضريبة القيمة المضافة في وطني ١٠٪
- ٣ - تأسست الهيئة العامة للزكاة والدخل في عهد الملك عبدالعزيز عام ١٣٥٥هـ
- ٤ - أنشأ برنامج حساب المواطن لحماية المواطنين والأسر من ذوي الدخل المنخفض أو المتوسط

بسم الله الرحمن الرحيم

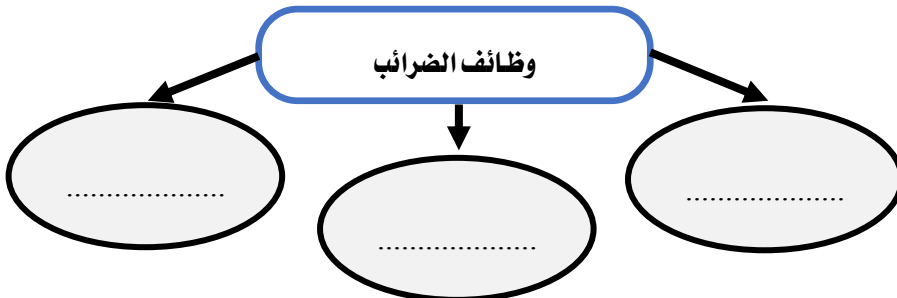
ورقة عمل درس (الضرائب)

اسم الطالب : / الصف : سادس /

س / عرف الضريبة ؟

ج /

س / اذكر وظائف الضرائب :



س / ضع علامة (√) أمام العبارة الصحيحة وعلامة (×) أمام العبارة الخاطئة فيما يلي :

- ١ - الجهة التي تتولى تحصيل الضرائب في وطني هي الهيئة العامة للزكاة والدخل
- ٢ - ضريبة القيمة المضافة في وطني ١٠٪
- ٣ - تأسست الهيئة العامة للزكاة والدخل في عهد الملك عبدالعزيز عام ١٣٥٥هـ
- ٤ - أنشأ برنامج حساب المواطن لحماية المواطنين والأسر من ذوي الدخل المنخفض أو المتوسط



بسم الله الرحمن الرحيم

ورقة عمل درس (خطوط الطول ودوائر العرض)

اسم الطالب : الصف : سادس /

س / ما المقصود بخطوط الطول ودوائر العرض ؟

ج /

س / اذكر مزايا خطوط الطول ؟

مزايا خطوط الطول

.....

.....

س / ضع علامة (√) أمام العبارة الصحيحة وعلامة (×) أمام العبارة الخاطئة فيما يلي :

- ١ - الخط الرئيسي لدوائر العرض هو خط الاستواء
- ٢ - يبلغ عدد دوائر العرض ٣٦٠ دائرة
- ٣ - تمكننا دوائر العرض من تحديد المناخ

بسم الله الرحمن الرحيم

ورقة عمل درس (خطوط الطول ودوائر العرض)

اسم الطالب : الصف : سادس /

س / ما المقصود بخطوط الطول ودوائر العرض ؟

ج /

س / اذكر مزايا خطوط الطول ؟

مزايا خطوط الطول

.....

.....

س / ضع علامة (√) أمام العبارة الصحيحة وعلامة (×) أمام العبارة الخاطئة فيما يلي :

- ١ - الخط الرئيسي لدوائر العرض هو خط الاستواء
- ٢ - يبلغ عدد دوائر العرض ٣٦٠ دائرة
- ٣ - تمكننا دوائر العرض من تحديد المناخ



بسم الله الرحمن الرحيم

ورقة عمل درس (موقع وطني)

اسم الطالب : / الصف : سادس /

س / ما الفرق بين موقع وطني الفلكي وموقع وطني الجغرافي ؟

ج / الموقع الفلكي :

الموقع الجغرافي :

س / صنف سمات الموقع الجغرافي لوطني المملكة العربية السعودية في الجدول الآتي :

أول بيت وضع للناس	وجود بيت الله الحرام وقبلة المسلمين	تتوسط حضارات الصين والهند والحيشة	تتوسط شبه الجزيرة العربية
وجود مسجد الرسول محمد صلى الله عليه وسلم	تحيط بها ثمان دول عربية	مهد الحضارات	تقع في قلب قارات العالم آسيا وأوروبا وإفريقيا

سمات حضارية وتاريخية

.....

.....

.....

سمات دينية

.....

.....

.....

سمات سياسية واقتصادية

.....

.....

.....

بسم الله الرحمن الرحيم

ورقة عمل درس (موقع وطني)

اسم الطالب : / الصف : سادس /

س / ما الفرق بين موقع وطني الفلكي وموقع وطني الجغرافي ؟

ج / الموقع الفلكي :

الموقع الجغرافي :

س / صنف سمات الموقع الجغرافي لوطني المملكة العربية السعودية في الجدول الآتي :

أول بيت وضع للناس	وجود بيت الله الحرام وقبلة المسلمين	تتوسط حضارات الصين والهند والحيشة	تتوسط شبه الجزيرة العربية
وجود مسجد الرسول محمد صلى الله عليه وسلم	تحيط بها ثمان دول عربية	مهد الحضارات	تقع في قلب قارات العالم آسيا وأوروبا وإفريقيا

سمات حضارية وتاريخية

.....

.....

.....

سمات دينية

.....

.....

.....

سمات سياسية واقتصادية

.....

.....

.....



بسم الله الرحمن الرحيم
ورقة عمل درس (مناخ وطني)

اسم الطالب : / الصف : سادس /

س / صف مناخ وطني المملكة العربية السعودية ؟

ج /

س / عدد العوامل المؤثرة في مناخ وطني المملكة العربية السعودية ؟

..... / ١

..... / ٢

س / اذكر سبب ما يأتي :

١ - اعتدال المناخ في المناطق الجنوبية الغربية من وطني المملكة العربية السعودية ؟

..... -

٢ - تفاوت نزول الأمطار في مناطق طني المملكة العربية السعودية ؟

..... -



بسم الله الرحمن الرحيم
ورقة عمل درس (مناخ وطني)

اسم الطالب : / الصف : سادس /

س / صف مناخ وطني المملكة العربية السعودية ؟

ج /

س / عدد العوامل المؤثرة في مناخ وطني المملكة العربية السعودية ؟

..... / ١

..... / ٢

س / اذكر سبب ما يأتي :

١ - اعتدال المناخ في المناطق الجنوبية الغربية من وطني المملكة العربية السعودية ؟

..... -

٢ - تفاوت نزول الأمطار في مناطق طني المملكة العربية السعودية ؟

..... -

بسم الله الرحمن الرحيم

ورقة عمل درس (سكان وطني)

اسم الطالب : الصف : سادس /



س / ما المقصود بالسكان ؟

ج /

س / اذكر اثنين من أسباب إجراء الدولة للتعداد السكاني ؟

ج / ١ /

٢ /

س / اختر الاجابة الصحيحة من بين الأقواس فيما يلي :

- | | |
|-------------------------------------|---|
| ١ - توزيع السكان في جميع مناطق وطني | (متساوي - متغير باستمرار - متفاوت) |
| ٢ - أكثر فئة من السكان في وطني | (صغار السن - متوسطو السن - كبار السن) |
| ٣ - الأماكن التي يقل فيها السكان | (المدن - الصحراء - المحافظات) |

بسم الله الرحمن الرحيم

ورقة عمل درس (سكان وطني)

اسم الطالب : الصف : سادس /



س / ما المقصود بالسكان ؟

ج /

س / اذكر اثنين من أسباب إجراء الدولة للتعداد السكاني ؟

ج / ١ /

٢ /

س / اختر الاجابة الصحيحة من بين الأقواس فيما يلي :

- | | |
|-------------------------------------|---|
| ١ - توزيع السكان في جميع مناطق وطني | (متساوي - متغير باستمرار - متفاوت) |
| ٢ - أكثر فئة من السكان في وطني | (صغار السن - متوسطو السن - كبار السن) |
| ٣ - الأماكن التي يقل فيها السكان | (المدن - الصحراء - المحافظات) |

بسم الله الرحمن الرحيم
ورقة عمل درس (المشاركة المجتمعية)

اسم الطالب : الصف : سادس /

س / اذكر فوائد المشاركة في المجتمع :

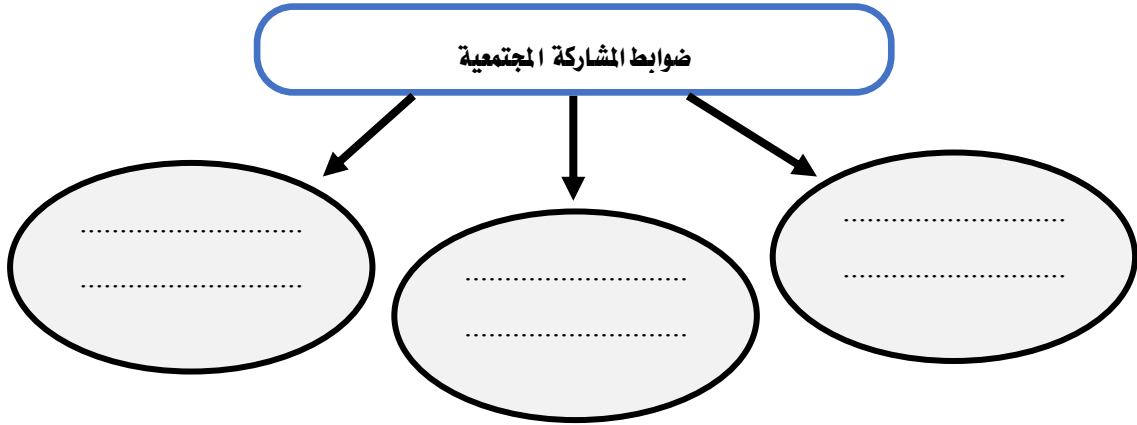
..... / ٢

..... / ١ ج

..... / ٤

..... / ٣

س / عدد ثلاثاً من ضوابط المشاركة المجتمعية :



بسم الله الرحمن الرحيم

ورقة عمل درس (المشاركة المجتمعية)

اسم الطالب : الصف : سادس /

س / اذكر فوائد المشاركة في المجتمع :

..... / ٢

..... / ١ ج

..... / ٤

..... / ٣

س / عدد ثلاثاً من ضوابط المشاركة المجتمعية :

